



Fișe de RECAPITULARE și EVALUARE FINALĂ

clasa pregătitoare

caiet interdisciplinar

- comunicare în limba română
- matematică și explorarea mediului
- dezvoltare personală
- arte vizuale și abilități practice



Acest caiet aparține elevului/elevei:



.....

Cuprins

Fișa de recapitulare 1. ANIMALE SĂLBATICE	3
Fișa de recapitulare 2. ANOTIMPURILE	8
Fișa de recapitulare 3. MIJLOACE DE TRANSPORT	12
Fișa de recapitulare 4. CORPUL OMENESC	16
Fișa de recapitulare 5. FRUCTE ȘI LEGUME	19
Fișa de recapitulare 6. MĂSOR TIMPUL!	22
Fișa de recapitulare 7. ANIMALE DOMESTICE	25
Fișa de recapitulare 8. CĂLĂTOR PRINTRE STELE	29
Fișa de recapitulare 9. ȘTIU SĂ FOLOSESC BANII!	32
Fișa de recapitulare 10. FIGURI ȘI CORPURI GEOMETRICE	37
Fișa de recapitulare 11. BUCURIILE VACANȚEI	40
Fișa de evaluare finală 1	43
Fișa de evaluare finală 2	45
Fișa de evaluare finală 3	47

Fișa de recapitulare 1. ANIMALE SĂLBATICE

- 1** Desparte în silabe cuvintele care denumesc imaginile, trasând câte o linie orizontală pentru fiecare silabă. Colorează animalul preferat!




- 2** Descoperă animalele ascunse după tufiș! Scrie literele lipsă.



CĂ__IL__



U__S




CR__COD__L



Z__BR__



LE__



M__IMU__Ă

3 Desparte prin linii cuvintele pentru a forma o propoziție.
Înlocuiește apoi cuvântul care nu se potrivește.

➔ GIRAFA ARE GÂTUL SCURT.
GIRAFA ARE GÂTUL **LUNG**.



➔ BROSCUȚA FACE HAM! HAM!





➔ PINGUINUL ARE BLANĂ.



4 Ghicește animalele! Citește propozițiile și unește cu
animalul potrivit. Atenție! Unele animale sunt în plus!



ARE CORPUL ACOPERIT CU
BLANĂ. TRĂIEȘTE ÎN PĂDURE ȘI
ESTE ȘIREATĂ.



ARE COADA SCURTĂ.
DOARME ÎN BÂRLOG.
MĂNÂNCĂ PEȘTE, MIERE, MURE.



ALEARGĂ REPEDE.
ÎI PLAC MORCOVII.
ESTE FRICOS.



5 Animalele dau un spectacol, care va ține două zile. Privește tabelul, apoi răspunde la întrebări.

<p>SÂMBĂTĂ</p>	
<p>DUMINICĂ</p>	

1. Câte animale au participat SÂMBĂTĂ la spectacol?

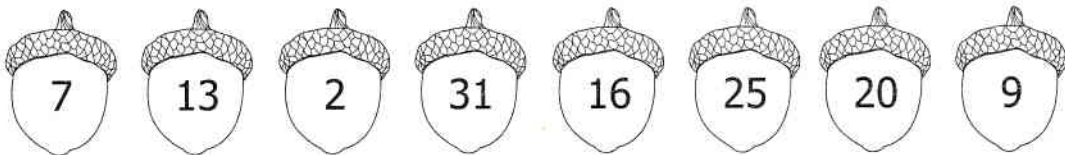
3. Câte animale au participat în total la spectacol?

2. Câte animale au participat DUMINICĂ la spectacol?



4. Care sunt cele mai numeroase animale din spectacol?

6 Veverița Veve vrea să aranjeze ghindele în scorbură. Ajut-o și scrie numerele de pe ghinde în ordine crescătoare.



7 Într-o pădure trăiesc 20 de animale. Dintre acestea, 5 sunt vulpi, 5 lupi, iar restul iepuri. Câți iepuri sunt?

8 Ajută-i pe leu și pe tigrul să calculeze următoarele operații matematice:

$17 + 4 = \square \square$

$12 - 2 = \square \square$

$22 + 3 = \square \square$



$17 + 3 = \square \square$

$10 + 3 = \square \square$

$28 - 1 = \square \square$



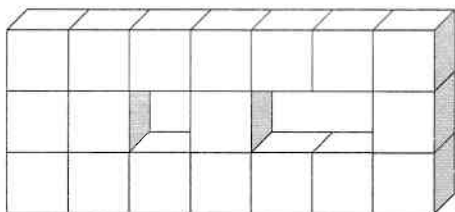
● Scrie rezultatele *pare* obținute.

--	--	--	--	--	--	--	--

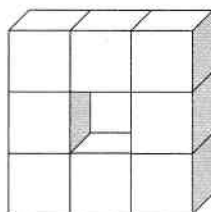
● Scrie rezultatele *impare* obținute.

--	--	--	--	--	--	--	--

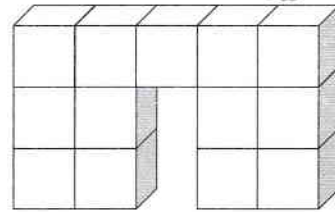
9 Tigrul trebuie să sară peste obstacolele de mai jos. Câte cuburi lipsesc din fiecare obstacol? Colorează caseta cu numărul corespunzător.



1	2	3	4
---	---	---	---



1	2	3	4
---	---	---	---



1	2	3	4
---	---	---	---

10 Ajută-l pe iepurilă să pună în cerculețe semnele $+$ sau $-$, astfel încât rezultatul să fie corect.

$7 \bigcirc 3 = 10$

$13 \bigcirc 1 = 12$

$12 \bigcirc 5 = 7$

$19 \bigcirc 1 = 20$

$24 \bigcirc 1 = 23$

$31 \bigcirc 3 = 28$


$2 \bigcirc 2 \bigcirc 2 = 2$

$2 \bigcirc 1 \bigcirc 2 = 1$

$5 \bigcirc 5 \bigcirc 2 = 8$



11 Grupează maimuțele 2 câte 2. Colorează cercul care arată numărul perechilor obținute.



2

3

4

5